

Анализ продаж

Задание 1 / 4

Прочитайте текст «Анализ продаж», расположенный справа. Отметьте в таблице нужные варианты ответа. Вы можете воспользоваться **калькулятором**, расположенным выше.

Анна впервые решила проанализировать продажи товара своего конкурента с помощью сайта аналитики. Какую информацию она может получить из представленных графиков?

Отметьте «**Верно**» или «**Неверно**» для каждого высказывания.

Высказывание	Верно	Неверно
С помощью графика можно найти общую выручку с продажи товара за неделю.	<input type="radio"/>	<input type="radio"/>
Цена на товар менялась несколько раз в течение недели.	<input type="radio"/>	<input type="radio"/>
Наименьшее количество товара было продано 26 мая.	<input type="radio"/>	<input type="radio"/>
В начале и в конце недели в продаже оставалось более 300 единиц товара.	<input type="radio"/>	<input type="radio"/>

АНАЛИЗ ПРОДАЖ

ВЫРУЧКА

ЦЕНА

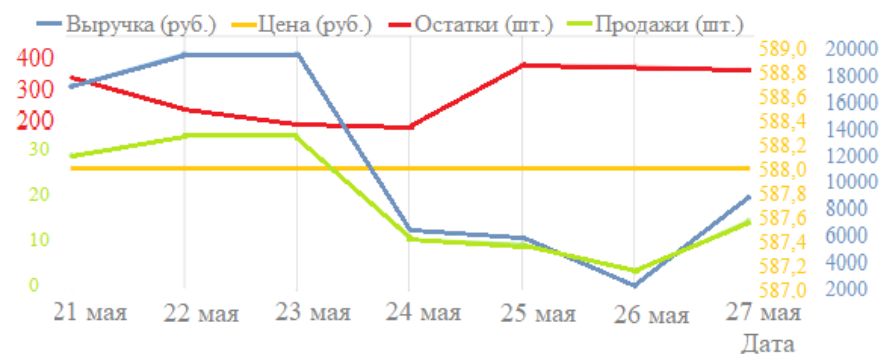
ОСТАТКИ

ПРОДАЖИ

АНАЛИЗ ПРОДАЖ

Маркетплейс – это торговая площадка, которая продаёт товары разных продавцов через интернет. В разделе аналитики одного из маркетплейсов представлены данные о продажах, остатках, цене и выручке каждого товара, который продаётся на маркетплейсе. Данные на сайте представлены в виде графиков.

На рисунке представлены графики изменения продаж, остатков, цены и выручки некоторого товара за период с 21 по 27 мая.



Обратите внимание, что цвет графика совпадает с цветом соответствующей шкалы, расположенной по вертикальной оси.

Выручка (**синий цвет**) – это стоимость проданного товара (в рублях).

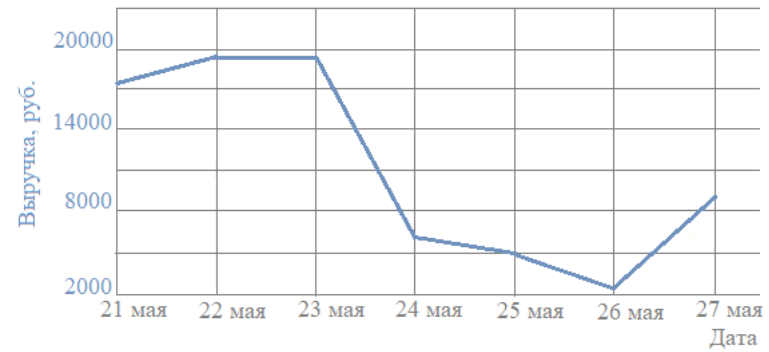
Цена (**желтый цвет**) – это стоимость единицы товара (в рублях).

Остатки (**красный цвет**) – это количество непроданного товара на складе (в штуках).

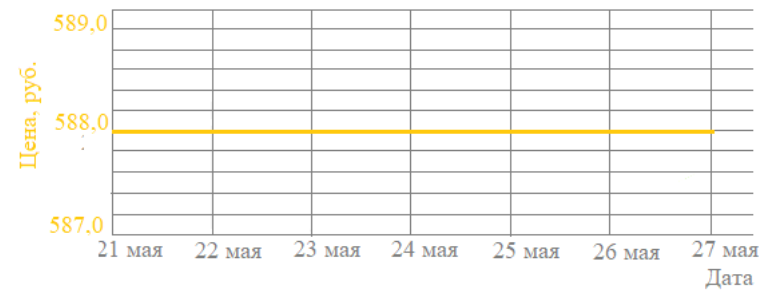
Продажи (**зеленый цвет**) – это количество проданного товара (в штуках).

Отдельно эти графики представлены на вкладках.

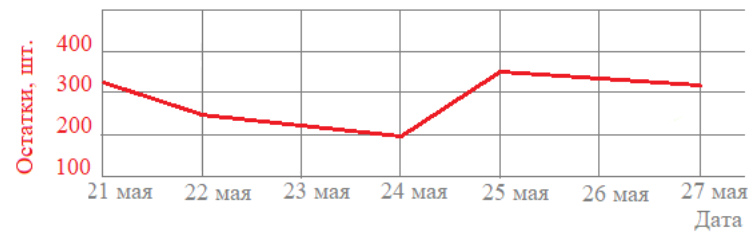
Вкладка 1 Стоимость проданного товара



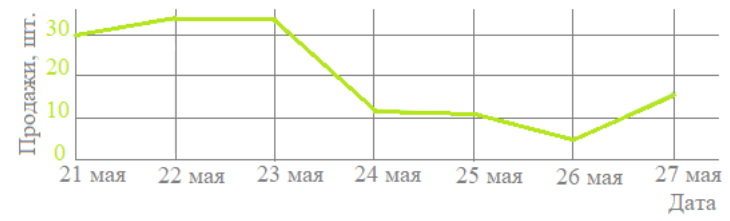
Вкладка 2 Стоимость единицы товара



Вкладка 3 Количество непроданного товара на складе



Вкладка 4 Количество проданного товара



Анализ продаж

Задание 2 / 4

Воспользуйтесь текстом «Анализ продаж», расположенным справа. Для ответа на вопрос отметьте нужный вариант ответа. Вы можете воспользоваться **калькулятором**, расположенным выше.

Анна утверждает, что 24 мая было продано 11 штук товара по цене 588 рублей за одну штуку, выручка составила 5880 рублей, остатки – 200 штук.

Какое из данных в ее утверждении **не** соответствует информации, представленной на графиках?

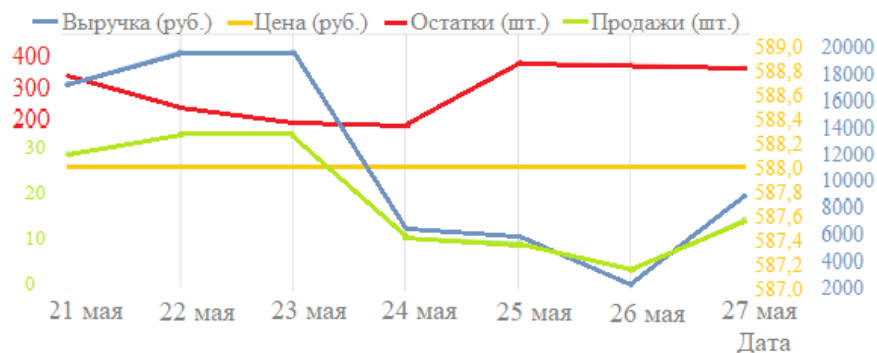
Отметьте **один** верный вариант ответа.

- Продано 11 штук
- Цена единицы товара – 588 рублей
- Выручка – 5880 рублей
- Остатки – 200 штук

АНАЛИЗ ПРОДАЖ

Маркетплейс – это торговая площадка, которая продаёт товары разных продавцов через интернет. В разделе аналитики одного из маркетплейсов представлены данные о продажах, остатках, цене и выручке каждого товара, который продаётся на маркетплейсе. Данные на сайте представлены в виде графиков.

На рисунке представлены графики изменения продаж, остатков, цены и выручки некоторого товара за период с 21 по 27 мая.



Обратите внимание, что цвет графика совпадает с цветом соответствующей шкалы, расположенной по вертикальной оси.

Выручка (**синий цвет**) – это стоимость проданного товара (в рублях).

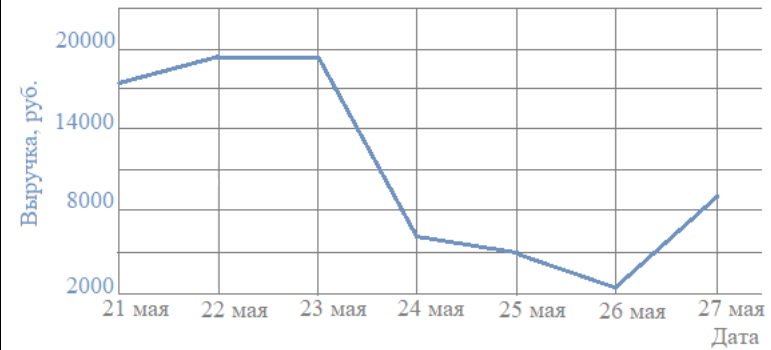
Цена (**желтый цвет**) – это стоимость единицы товара (в рублях).

Остатки (**красный цвет**) – это количество непроданного товара на складе (в штуках).

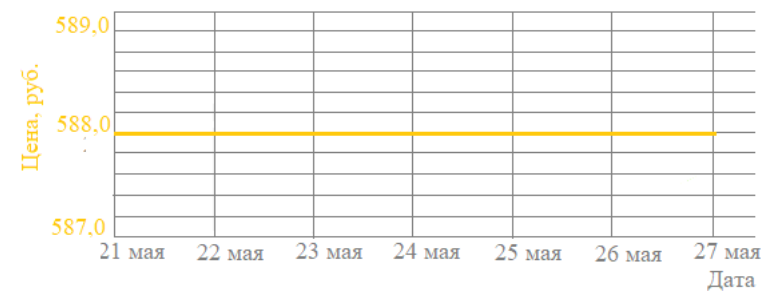
Продажи (**зеленый цвет**) – это количество проданного товара (в штуках).

Отдельно эти графики представлены на вкладках.

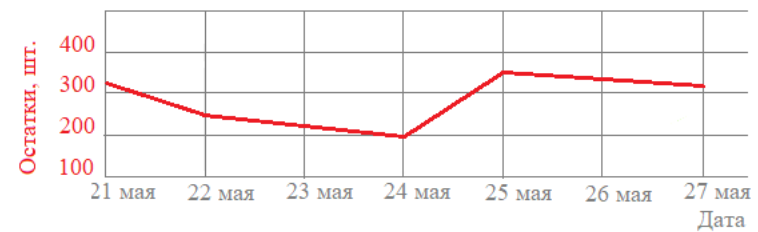
Вкладка 1 Стоимость проданного товара



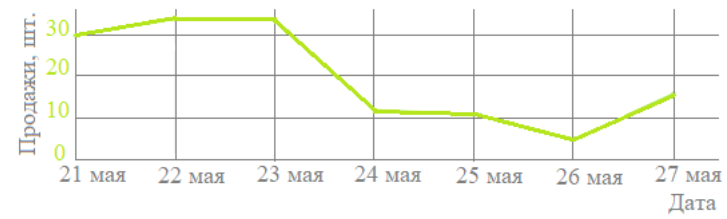
Вкладка 2 Стоимость единицы товара



Вкладка 3 Количество непроданного товара на складе



Вкладка 4 Количество проданного товара



Анализ продаж

Задание 3 / 4

Воспользуйтесь текстом «Анализ продаж», расположенным справа. Запишите свой ответ на вопрос в виде числа. Вы можете воспользоваться *калькулятором*, расположенным выше.

Анна посмотрела на представленные графики и высказала мнение, что конкурент на этой неделе пополнил остатки товара приблизительно на 150 штук.

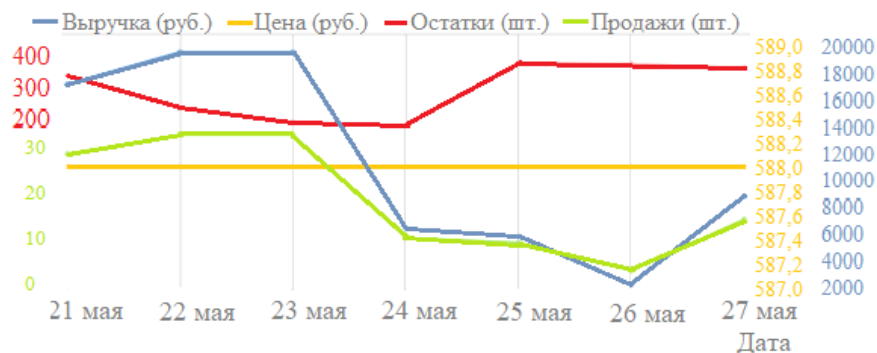
Запишите свой ответ в виде даты.

--	--

АНАЛИЗ ПРОДАЖ

Маркетплейс – это торговая площадка, которая продаёт товары разных продавцов через интернет. В разделе аналитики одного из маркетплейсов представлены данные о продажах, остатках, цене и выручке каждого товара, который продаётся на маркетплейсе. Данные на сайте представлены в виде графиков.

На рисунке представлены графики изменения продаж, остатков, цены и выручки некоторого товара за период с 21 по 27 мая.



Обратите внимание, что цвет графика совпадает с цветом соответствующей шкалы, расположенной по вертикальной оси.

Выручка (**синий цвет**) – это стоимость проданного товара (в рублях).

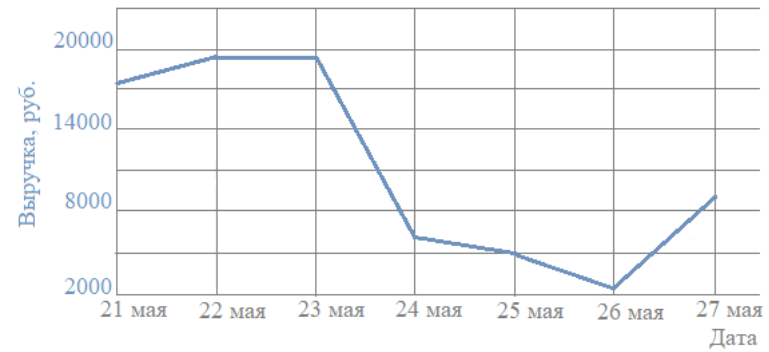
Цена (**желтый цвет**) – это стоимость единицы товара (в рублях).

Остатки (**красный цвет**) – это количество непроданного товара на складе (в штуках).

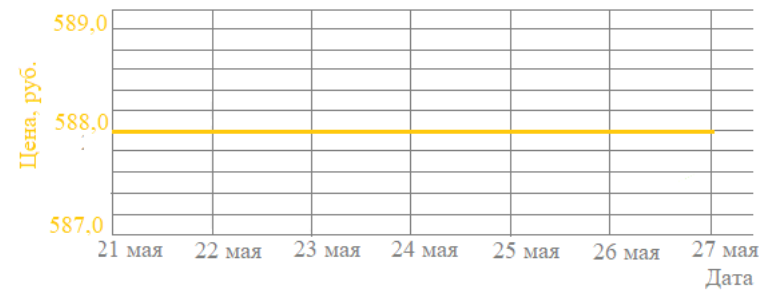
Продажи (**зеленый цвет**) – это количество проданного товара (в штуках).

Отдельно эти графики представлены на вкладках.

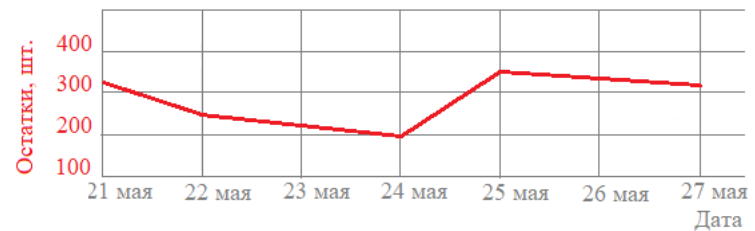
Вкладка 1 Стоимость проданного товара



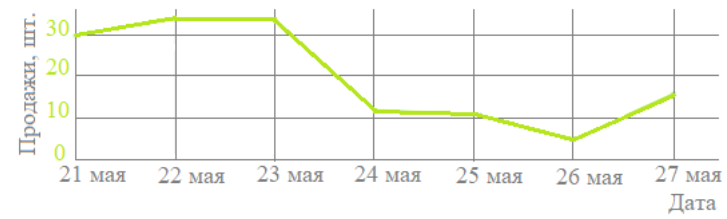
Вкладка 2 Стоимость единицы товара



Вкладка 3 Количество непроданного товара на складе



Вкладка 4 Количество проданного товара



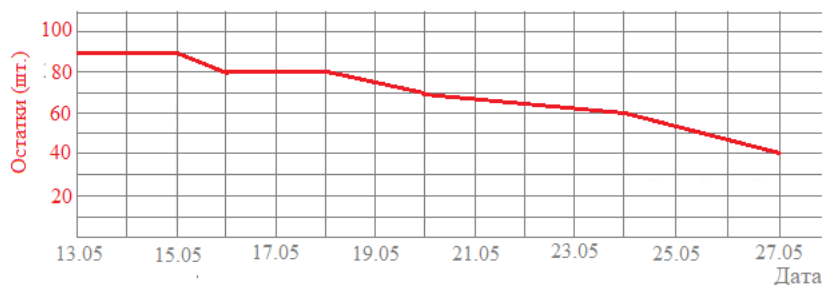
Анализ продаж

Задание 4 / 4

Воспользуйтесь текстом «Анализ продаж», расположенным справа. Запишите свой ответ на вопрос в виде числа. Вы можете воспользоваться **калькулятором**, расположенным выше.

Анна изучила, как изменялись остатки интересующего её товара у конкурента за последние 2 недели, и предположила, что конкурент хочет распродать остатки товара.

Какого числа будут распроданы остатки товара, если тенденция продаж продолжится?



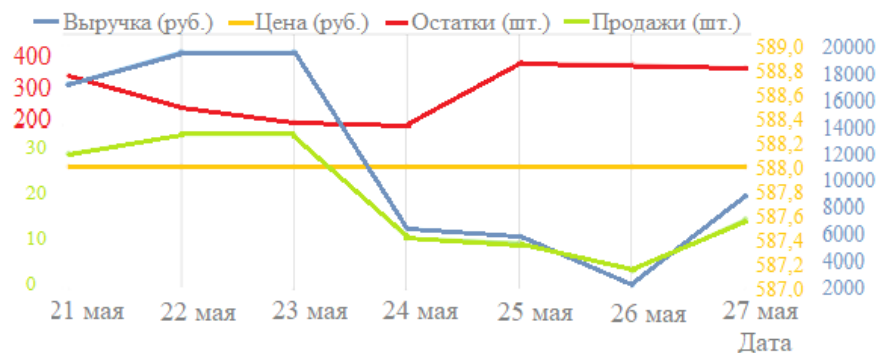
Запишите свой ответ в виде даты (в формате ЧЧ.ММ).

ЧЧ	ММ

АНАЛИЗ ПРОДАЖ

Маркетплейс – это торговая площадка, которая продаёт товары разных продавцов через интернет. В разделе аналитики одного из маркетплейсов представлены данные о продажах, остатках, цене и выручке каждого товара, который продаётся на маркетплейсе. Данные на сайте представлены в виде графиков.

На рисунке представлены графики изменения продаж, остатков, цены и выручки некоторого товара за период с 21 по 27 мая.



Обратите внимание, что цвет графика совпадает с цветом соответствующей шкалы, расположенной по вертикальной оси.

Выручка (**синий цвет**) – это стоимость проданного товара (в рублях).

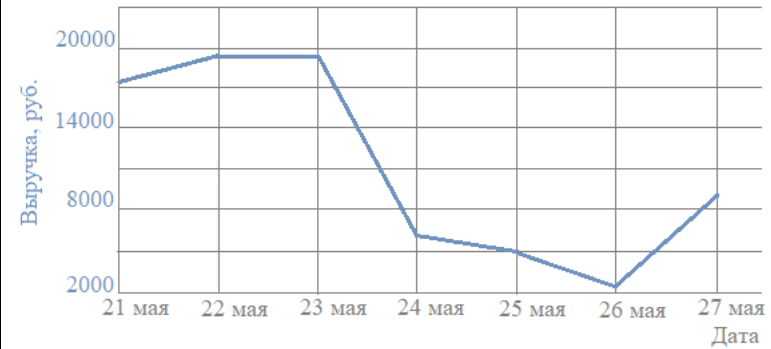
Цена (**желтый цвет**) – это стоимость единицы товара (в рублях).

Остатки (**красный цвет**) – это количество непроданного товара на складе (в штуках).

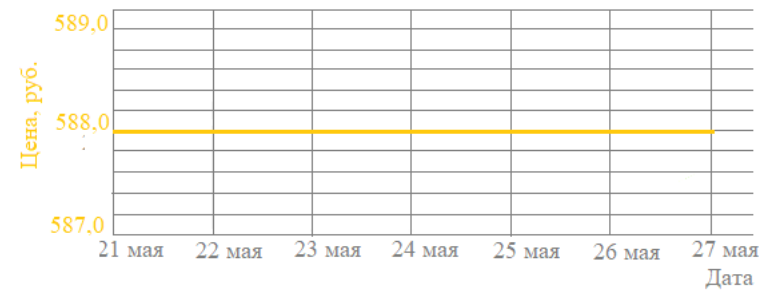
Продажи (**зеленый цвет**) – это количество проданного товара (в штуках).

Отдельно эти графики представлены на вкладках.

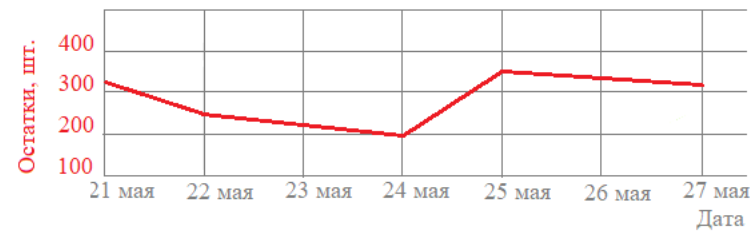
Вкладка 1 Стоимость проданного товара



Вкладка 2 Стоимость единицы товара



Вкладка 3 Количество непроданного товара на складе



Вкладка 4 Количество проданного товара

